

**PRUEBAS PARA LA OBTENCIÓN DEL TÍTULO DE GRADUADO EN
EDUCACIÓN SECUNDARIA OBLIGATORIA PARA PERSONAS MAYORES DE
18 AÑOS**
ÁMBITO SOCIAL. CONVOCATORIA 2021 (JUNIO)

Puntuación total del ámbito

/ 100

Calificación del ámbito (cualitativa/numérica)

DATOS DEL INTERESADO

Apellidos: _____

Nombre: _____ DNI / NIE: _____

En _____, a ____ de _____ de 2021.

Firma: _____

INSTRUCCIONES GENERALES

- En total dispone de **UNA HORA Y MEDIA** para realizar la prueba de este ámbito.
- No escriba en los espacios sombreados. Para las respuestas use los espacios en blanco existentes.
- Escriba con letras mayúsculas los datos que se le piden en el recuadro de esta portada. No se olvide de firmar y poner su DNI/NIE también en el resto de los recuadros donde se indica.
- Lea con atención los enunciados de las preguntas, y escriba con letra clara, utilizando bolígrafo azul o negro.
- Si se equivoca, tache el error con una línea. Ejemplo
- Si el error es en una pregunta de elección de respuesta, tache el error y subraye lo correcto. Ejemplo
- No está permitido el uso de teléfonos u otros dispositivos móviles durante la realización de la prueba.

CRITERIOS DE CALIFICACIÓN DE LA PRUEBA

- La prueba consta de **varias preguntas organizadas en tres bloques:**

Geografía: 40 puntos

Historia: 40 puntos

Arte: 20 puntos

- La prueba se evalúa de 0 a 100 puntos. Para superarla hay que obtener un mínimo de 50 puntos.
- En cada pregunta aparecen la puntuación y los criterios de calificación. En general, se valorará: la identificación correcta de las cuestiones, el conocimiento de los temas tratados, el aporte de información sobre el tema propuesto, la capacidad de razonamiento y síntesis, la coherencia argumentativa, la ejemplificación de supuestos, la elaboración de conclusiones y el planteamiento de posibles soluciones a problemas, reflejando actitudes de respeto, solidaridad, así como la capacidad de crítica y toma de postura ante hechos de actualidad, la valoración del patrimonio natural, cultural y artístico, etc.
- Se valorará la correcta expresión escrita: presentación, ortografía, corrección gramatical, riqueza léxica (uso de vocabulario específico) y adecuado manejo del texto (análisis, interpretación, coherencia y explicación).
- Los errores restan solo en la pregunta que se señale. Las respuestas en blanco no descuentan.

CALENDARIO

- Los resultados provisionales se publicarán en el centro el día 18 de junio de 2021; los definitivos, el día 25 de junio.
- Si obtiene el Graduado en Educación Secundaria Obligatoria o supera algún ámbito, no olvide recoger la certificación que lo acredita.

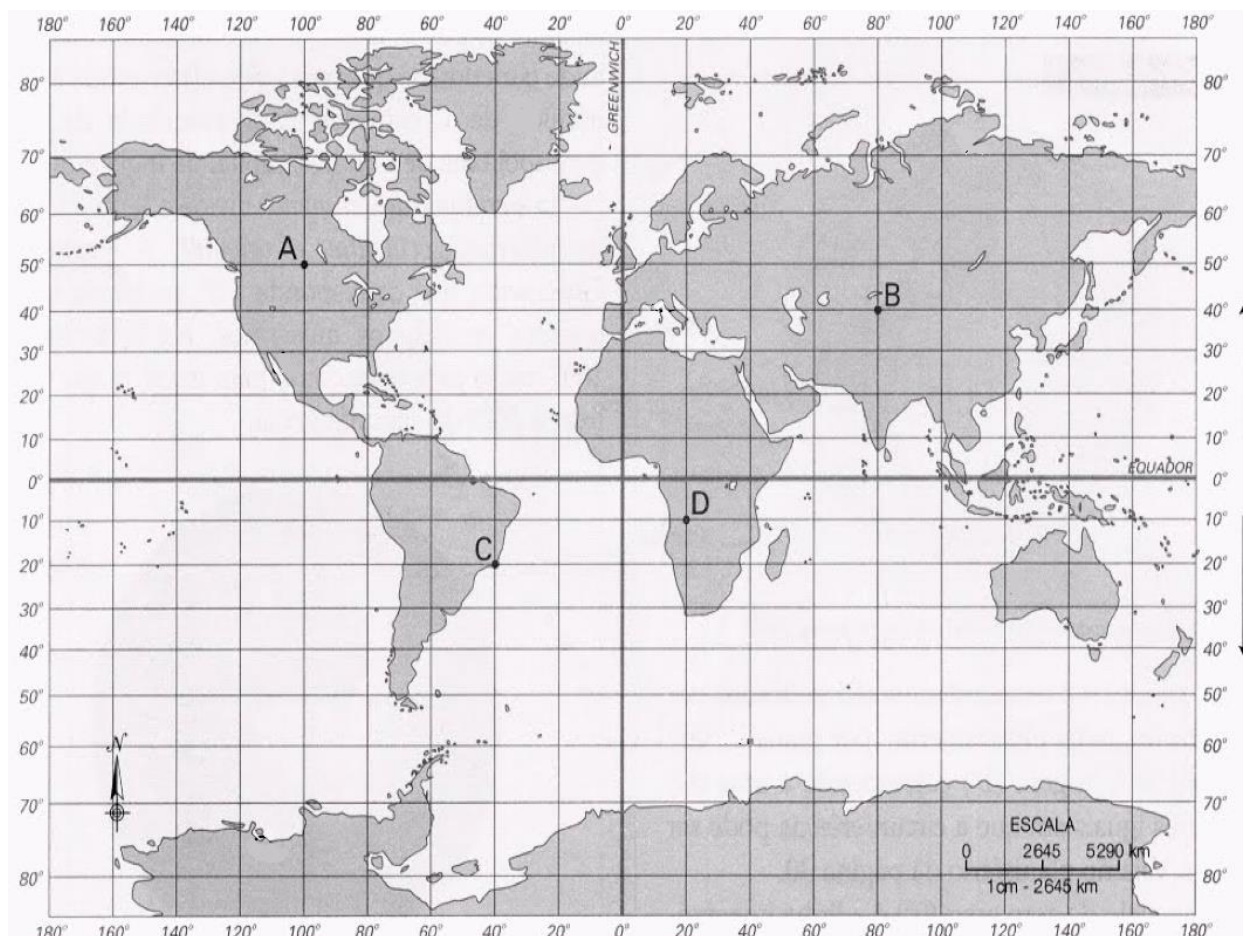
BLOQUE DE GEOGRAFÍA

1.- De los siguientes términos económicos, escriba el que corresponda a la derecha de su definición: [2 puntos cada respuesta correcta. Total: 12 puntos]

INFLACIÓN ----- DÉFICIT ----- RENTA PER CÁPITA ----- IDH ----- PIB -----
 SUPERÁVIT ----- ESTANFLACIÓN ----- PRODUCTIVIDAD ----- TASA DE PARO

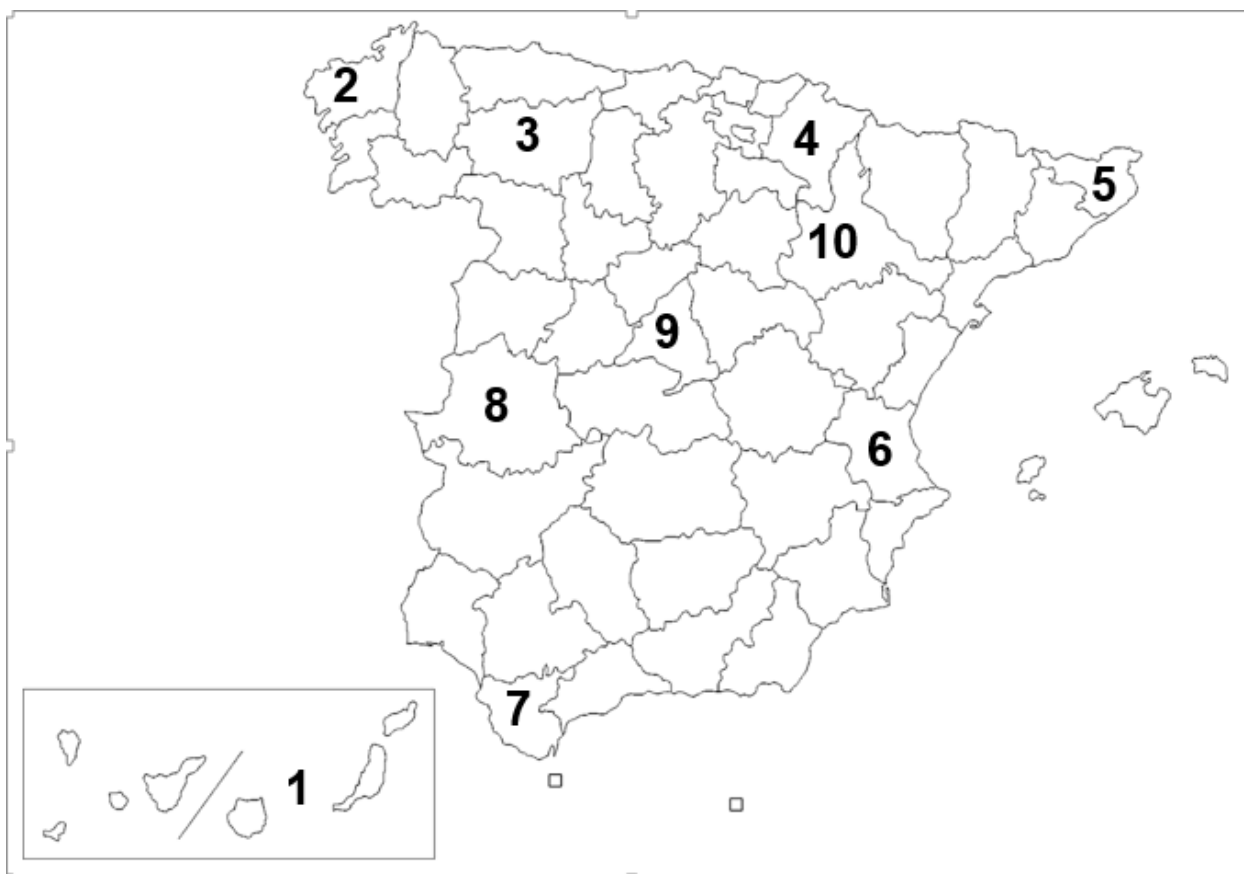
Siglas que expresan el conjunto de los bienes y servicios producidos en un país durante un espacio de tiempo, generalmente un año.	
Situación de la economía en la que los gastos superan a los ingresos.	
Indicador económico que relaciona el Producto Interior Bruto de un territorio y la cantidad de habitantes que viven en él.	
Siglas del índice elaborado por las Naciones Unidas para medir el grado de desarrollo humano de los países.	
Aumento generalizado y sostenido de los precios de bienes y servicios.	
Porcentaje que expresa la proporción de parados que hay respecto al total de activos.	

2.- Anote en la tabla las coordenadas de latitud y longitud de los cuatro puntos marcados en el mapa. [2 puntos cada respuesta correcta. Total: 8 puntos]



A		C	
B		D	

3.- Indique el nombre correspondiente de cada una de las provincias españolas marcadas con un número en el siguiente mapa. Utilice para contestar la tabla de abajo. [1 punto cada respuesta correcta. Total 10: puntos]



1	
2	
3	
4	
5	
6	
7	
8	
9	
10	

4.- Lea el siguiente texto sobre la globalización y conteste a las cuestiones:

[2,50 puntos cada respuesta correcta. Total 10: puntos]

El proceso de globalización está trayendo dos tipos de tendencias en lo que se refiere a la cultura. Por un lado, la globalización tiende a la norteamericanización, lo que algunos autores llaman «el McWorld». La influencia de los medios de comunicación norteamericanos es cada vez mayor en todos los países del mundo, especialmente la televisión: las películas y noticias estadounidenses, las series televisivas, las grandes marcas musicales. Por otro lado, el desarrollo de Internet está dominado por el idioma inglés, y buena parte de los portales y buscadores son norteamericanos. El uso del inglés como lengua mundial empieza a ser un hecho, y su uso va creciendo a un ritmo superior al del resto de las lenguas. El español se mantiene gracias a tener 450 millones de hispanohablantes, pero idiomas como el japonés, el francés y el alemán tienen cada vez más dificultades de expansión.

Sin embargo, este predominio de lo norteamericano no nos tiene que llevar a la confusión. La imagen de un joven árabe en un bar norteamericano de El Cairo, vestido al estilo norteamericano, oyendo rap y fumando cigarrillos no quiere decir que comparta su cultura, incluso es posible que sea hostil a ella. Huntington dice que en Occidente nos creemos que el mundo está más influido por nuestra cultura de lo que realmente está: «Salvo una elite pequeña, el resto del mundo ignora u odia la cultura occidental».

G. DE LA DEHESA, *Comprender la globalización*, 2000. Adaptado

4.1. ¿Qué se quiere decir con la expresión «McWorld»?

4.2. ¿En qué dos tendencias se manifiesta este proceso?

4.3. ¿Ante esta globalización cultural, con qué fortaleza cuenta España? ¿Por qué?

4.4. Según Huntington ¿cómo es la influencia occidental en el mundo?

DNI nº:

Firma:

BLOQUE DE HISTORIA

1. Sitúe los siguientes acontecimientos en el periodo histórico que le corresponda. Utilice las letras de cada hecho histórico para colocarlas en la tabla: [1 punto cada respuesta correcta. Total 15 puntos]

- A- Asesinato de J.F.Kennedy
- B- Conquista de las Galias por Julio César
- C- Las Cruzadas
- D- Proceso de Descolonización
- E- Batalla de Lepanto
- F- Construcción de las Pirámides de Egipto
- G- Invención de la agricultura
- H- Carlos V es coronado emperador
- I- Madame Curie consigue el Premio Nobel de Física
- J- Aparición del Megalitismo
- K- Lutero inicia el protestantismo
- L- Comienza la Reconquista cristiana de la Península Ibérica
- M- Primera circunnavegación de la Tierra por Magallanes
- N- Fabricación de los primeros útiles en metal
- O- Aníbal atraviesa los Alpes con elefantes

PREHISTORIA	
EDAD ANTIGUA	
EDAD MEDIA	
EDAD MODERNA	
EDAD CONTEMPORÁNEA	

2.- Elabore una redacción de 80-100 palabras sobre el Feudalismo: (significado, origen, características, etc.)

[Total 11 puntos. Desglose: 9 puntos de contenidos / 2 puntos de redacción y ortografía]

3. Complete la tabla sobre la Guerra Fría colocando en su respectiva columna las siguientes parejas de términos. [1 punto por cada respuesta correcta. Total 14 puntos]

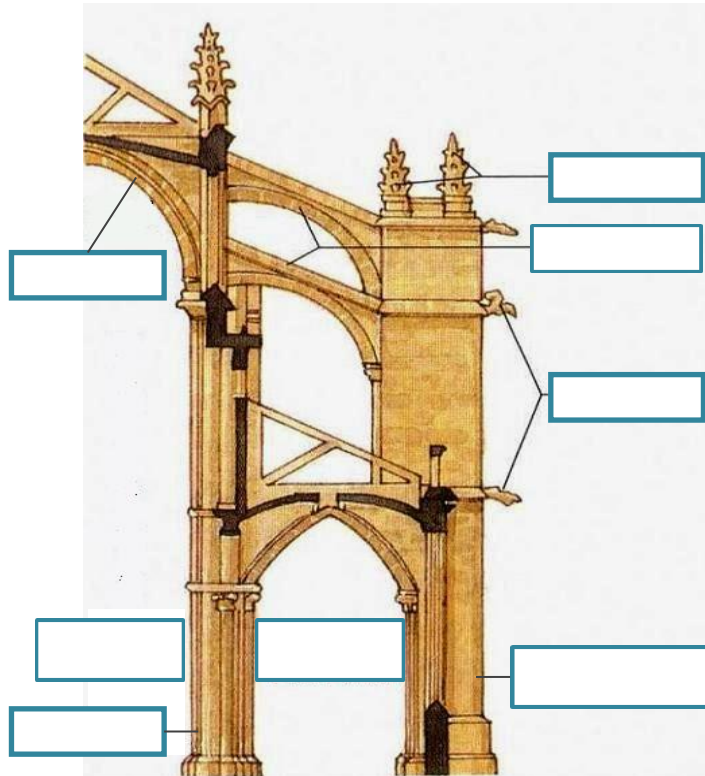
*Oriental-Occidental, EEUU-URSS, Comunismo-Capitalismo,
Democracia-Dictadura, Pacto de Varsovia-OTAN,
COMECON-Plan Marshall, CIA-KGB*

		
BLOQUE		
SUPERPOTENCIA		
SISTEMA ECONÓMICO		
SISTEMA POLÍTICO		
ALIANZA MILITAR		
AYUDA ECONÓMICA		
AGENCIA DE INTELIGENCIA		

BLOQUE DE ARTE


1. Escriba en las etiquetas de la ilustración los elementos característicos de la arquitectura gótica. Utilice para ello los términos que se relacionan en la siguiente lista: [1 por cada respuesta correcta. Total 8 puntos.]

CONTRAFUERTE GÁRGOLAS NAVE CENTRAL ARBOTANTE
NAVE LATERAL PINÁCULOS PILAR CRUCIFORME BÓVEDA DE CRUCERÍA




2. Complete la tabla que hay junto a cada imagen.

[1 punto por cada respuesta correcta. Total 12 puntos.]



Obra	
Autor	
Estilo/Época	



Obra	
Autor	
Estilo/ Época	



Obra	
Autor	
Estilo/ Época	



Obra	
Autor	
Estilo/ Época	

DNI nº:

Firma: